

名前



分数と小数のわり算

1 計算をしましょう。

① $\frac{1}{6} \div 0.3$

② $0.8 \div \frac{2}{7}$

③ $\frac{8}{25} \div 0.04$

④ $0.09 \div \frac{1}{20}$

⑤ $\frac{3}{5} \div 1.6$

⑥ $2.7 \div 2\frac{4}{7}$

⑦ $\frac{9}{10} \div 0.12$

⑧ $0.32 \div 3\frac{1}{5}$

⑨ $1\frac{13}{15} \div 1.05$

⑩ $1.26 \div 1\frac{5}{16}$

2 計算をしましょう。

① $\frac{2}{3} \div 0.5$

② $0.9 \div \frac{1}{6}$

③ $\frac{13}{50} \div 0.08$

④ $0.06 \div \frac{3}{16}$

⑤ $\frac{7}{8} \div 1.3$

⑥ $3.2 \div 1\frac{13}{15}$


⑦ $\frac{12}{25} \div 0.18$

⑧ $0.72 \div 2\frac{1}{10}$

⑨ $1\frac{7}{8} \div 1.25$

⑩ $3.85 \div 1\frac{7}{15}$

名前



分数と小数のわり算

1 計算をしましょう。

① $\frac{3}{8} \div 0.4$

② $0.7 \div \frac{3}{5}$

③ $\frac{2}{15} \div 0.02$

④ $0.05 \div \frac{7}{16}$

⑤ $\frac{5}{6} \div 1.2$

⑥ $2.1 \div \frac{7}{15}$

⑦ $\frac{12}{25} \div 0.16$

⑧ $0.28 \div 1\frac{5}{16}$

⑨ $1\frac{1}{35} \div 1.08$

⑩ $1.23 \div 2\frac{2}{5}$

2 計算をしましょう。

① $\frac{6}{7} \div 0.2$

② $0.6 \div \frac{3}{5}$

③ $\frac{1}{12} \div 0.03$

④ $0.07 \div \frac{14}{25}$

⑤ $2\frac{1}{3} \div 1.4$

⑥ $2.5 \div 1\frac{7}{8}$

⑦ $\frac{18}{25} \div 0.15$

⑧ $0.48 \div 2\frac{2}{15}$

⑨ $1\frac{7}{20} \div 1.17$

⑩ $2.75 \div 4\frac{1}{8}$

名前

分数と小数のわり算



20

3

1 計算をしましょう。

① $\frac{4}{5} \div 0.6$

② $0.9 \div \frac{3}{5}$

③ $\frac{1}{10} \div 0.03$

④ $0.08 \div \frac{4}{15}$

⑤ $\frac{7}{8} \div 1.4$

⑥ $1.8 \div \frac{6}{7}$

⑦ $\frac{9}{20} \div 0.15$

⑧ $0.27 \div 1\frac{11}{25}$

⑨ $1\frac{1}{15} \div 1.12$

⑩ $1.32 \div 1\frac{7}{35}$

2 計算をしましょう。

① $\frac{1}{6} \div 0.4$

② $0.8 \div \frac{2}{3}$

③ $\frac{7}{30} \div 0.05$

④ $0.06 \div \frac{3}{8}$

⑤ $1\frac{1}{5} \div 1.5$

⑥ $2.4 \div 1\frac{4}{5}$

⑦ $\frac{7}{24} \div 0.21$

⑧ $0.36 \div 2\frac{1}{4}$

⑨ $1\frac{1}{8} \div 1.35$

⑩ $2.25 \div 2\frac{13}{16}$

名前



20

4

分数と小数のわり算

1 計算をしましょう。

① $0.9 \div \frac{3}{5}$

② $\frac{1}{6} \div 0.3$

③ $0.08 \div \frac{4}{15}$

④ $\frac{2}{15} \div 0.02$

⑤ $2.7 \div 2\frac{4}{7}$

⑥ $\frac{7}{8} \div 1.4$

⑦ $0.28 \div 1\frac{5}{16}$

⑧ $\frac{9}{20} \div 0.15$

⑨ $1.26 \div 1\frac{5}{16}$

⑩ $1\frac{1}{15} \div 1.12$

2 計算をしましょう。

① $0.9 \div \frac{1}{6}$

② $\frac{1}{6} \div 0.4$

③ $0.07 \div \frac{14}{25}$

④ $\frac{13}{50} \div 0.08$

⑤ $2.5 \div 1\frac{7}{8}$


⑥ $\frac{7}{8} \div 1.3$

⑦ $0.36 \div 2\frac{1}{4}$

⑧ $\frac{12}{25} \div 0.18$

⑨ $2.75 \div 4\frac{1}{8}$

⑩ $1\frac{7}{8} \div 3.15$



名前

分数と小数のわり算

1 計算をしましょう。

① $0.8 \div \frac{2}{7}$

② $\frac{3}{8} \div 0.4$

③ $0.09 \div \frac{1}{20}$

④ $\frac{1}{10} \div 0.03$

⑤ $2.1 \div \frac{7}{15}$

⑥ $\frac{3}{5} \div 1.6$

⑦ $0.27 \div 1\frac{11}{25}$

⑧ $\frac{9}{10} \div 0.12$

⑨ $1.23 \div 2\frac{2}{5}$

⑩ $1\frac{13}{15} \div 1.05$

2 計算をしましょう。

① $0.8 \div \frac{2}{3}$

② $\frac{6}{7} \div 0.2$

③ $0.06 \div \frac{3}{8}$

④ $\frac{7}{30} \div 0.05$

⑤ $3.2 \div 1\frac{13}{15}$

⑥ $2\frac{1}{3} \div 1.4$


⑦ $0.72 \div 2\frac{1}{10}$

⑧ $\frac{18}{25} \div 0.15$

⑨ $2.25 \div 2\frac{13}{16}$

⑩ $1\frac{7}{20} \div 2.34$

名前



分数と小数のわり算

1 計算をしましょう。

① $0.7 \div \frac{3}{5}$

② $\frac{4}{5} \div 0.6$

③ $0.05 \div \frac{7}{16}$

④ $\frac{8}{25} \div 0.04$

⑤ $1.8 \div \frac{6}{7}$

⑥ $\frac{5}{6} \div 1.2$

⑦ $0.32 \div 3\frac{1}{5}$

⑧ $\frac{12}{25} \div 0.16$

⑨ $1.32 \div 1\frac{7}{35}$

⑩ $1\frac{1}{35} \div 1.08$

2 計算をしましょう。

① $0.6 \div \frac{3}{5}$

② $\frac{2}{3} \div 0.5$

③ $0.07 \div \frac{14}{25}$

④ $0.04 \div \frac{8}{15}$

⑤ $2.4 \div 1\frac{4}{5}$

⑥ $1\frac{1}{5} \div 1.5$

⑦ $0.48 \div 2\frac{2}{15}$

⑧ $\frac{7}{24} \div 0.21$

⑨ $3.85 \div 1\frac{7}{15}$

⑩ $1\frac{1}{8} \div 1.35$