



1

対称な図形

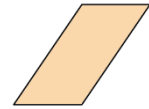
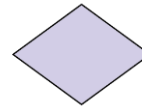

名前

月 日

いろいろな形の線対称 点対称

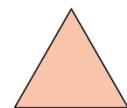
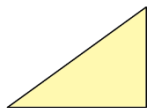
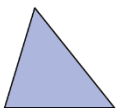
(基本)

1 次の四角形について、下の表をうめましょう。



	線対称	対称の軸の数	点対称
台形			
正方形			
長方形			
ひし形			
平行四辺形			

2 次の三角形について、下の表をうめましょう。



	線対称	対称の軸の数	点対称
三角形			
直角三角形			
二等辺三角形			
正三角形			

