

3

いくつと いくつ

すうじを わける

(きほん)

① 5は いくつと いくつに なりますか。

( )に あう かずを かきましょう。

①



( 1 ) と ( )

②



( 2 ) と ( )

③



( 3 ) と ( )

④



( 4 ) と ( )



名前

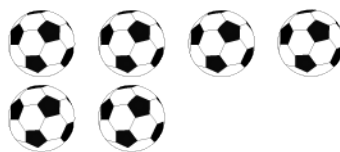
月 日

2

8は いくつと いくつに なりますか。

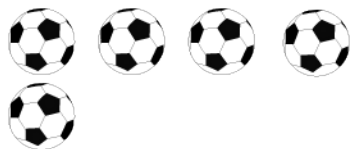
( )に あう かずを かきましょう。

①



( 2 ) と ( )

②




( 5 ) と ( )

③



( 4 ) と ( )

④



( 7 ) と ( )



名前

月 日

3

( )に あう かずを かきましょう。

① 6は 4 と ( )

② 3は 1 と ( )

③ 9は 6 と ( )

④ 7は 3 と ( )

⑤ 5は 2 と ( )

⑥ 8は 2 と ( )

⑦ 4は 3 と ( )



名前

月 日

4 あわせて 10 になるように せんを おすびまし  
よう。

1	4	6	7	2	3	5	8
●	●	●	●	●	●	●	●

●	●	●	●	●	●	●	●
3	7	9	2	6	5	8	4