

3

いくつと いくつ

まとめのまんたい



1 6は いくつと いくつに なりますか。


()に あう かずを かきましょう。

①



(1) と ()

②



(4) と ()

③



(3) と ()

④



(6) と ()

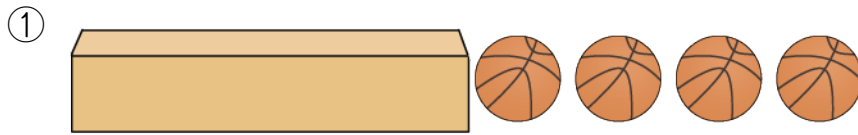


名前


月 日

2 ボールが 8こ あります。


はこに はいっている かずを かきましょう。




()こ



()こ



()こ



()こ



名前

月 日

3 あわせて 7になるように せんを おすびましよう。

4	7	1	5	0	3	2	6
●	●	●	●	●	●	●	●

●	●	●	●	●	●	●	●
3	7	5	2	6	4	0	1