

7


10より おおきい かず

20より おおきい かず

(きほん)

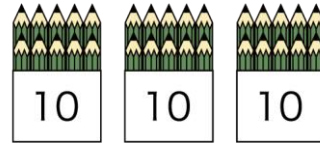
1 いくつ あるか かずを かぞえましょう。

①



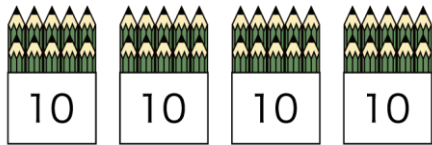
()

②



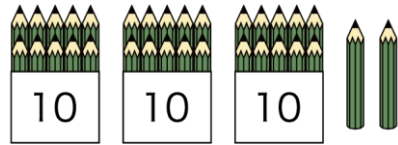
()

③



()

④



()

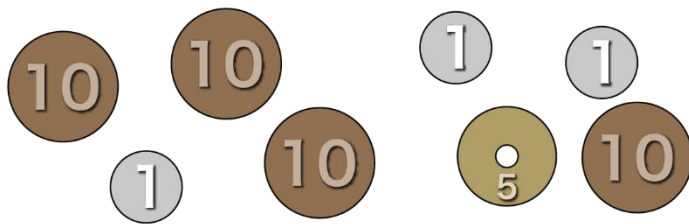
名前

月 日



2 おかねを かぞえて みましょう。

① なんえん ありますか。



()えん

② 26えんを つくりましょう。

それぞれ なんまい ひつようですか。

10えんだま ()まい

5えんだま ()まい

1えんだま ()まい



名前

月 日

3

カレンダーの あいているところに すうじをかきましょう。

にち 日	げつ 月	か 火	すい 水	もく 木	きん 金	ど 土
1	2	3	4	5	6	7
8	9	10	11			14
	16			19		
22	23		25		27	
29		31				