

7


10より おおきい かず

まとめのもんだい




1 10と いくつに わかれるか こたえましょう。

① 14




10 と ()

② 18



10 と ()

③ 13



10 と ()

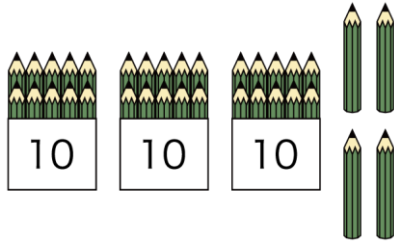


名前

月 日

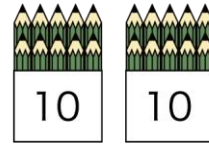
2 いくつ あるか かずを かぞえましょう。

①



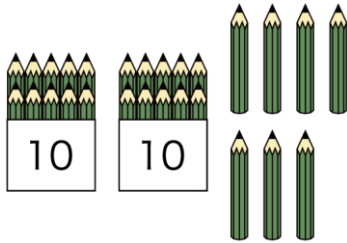
()

②



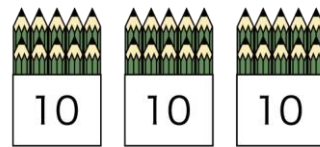
()

③



()

④



()



名前

月 日

3 どちらが おおきいですか。○を ^{まる}つけましょう。

① () ()

② () ()

③ () ()

4 () のなかの すうじを もとめましょう。

① 15より 2 おおきい かずは ()です。

② 20より 4 ちいさい かずは ()です。

③ 26より 3 おおきい かずは ()です。

④ 27より 5 ちいさい かずは ()です。



名前

月 日

5 けいさんを しましょう。

① $12 + 5 =$

② $17 - 3 =$

③ $14 + 5 =$

④ $10 + 9 =$

⑤ $13 - 3 =$

⑥ $25 + 1 =$

⑦ $25 - 4 =$

⑧ $17 - 6 =$

⑨ $14 + 4 =$

⑩ $26 - 2 =$