

10

ながさと ひろさ




ひろさくらべ


(きほん)

1 ひろさをくらべましょう。

①どちらがひろいですか。ひろいほうにまる○をつけましょう。



()




()

②どちらがひろいですか。ひろいほうにまる○をつけましょう。



()




()

名前

月 日

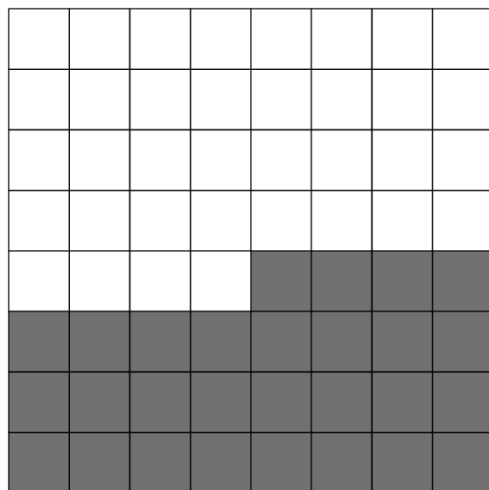


③ しろと くろは どちらが ひろいですか。



()

④ しろと くろは どちらが ひろいですか。



()


名前

月 日



3

じんとり あそびを しています。どちらが おお
く じんちを とっていますか。



①それぞれ なんます とっていますか。

いぬ ()ます ねこ ()ます

②どちらの 勝ちですか。

()