



12

かさくらべ

みずの かさ


(きほん)

名前

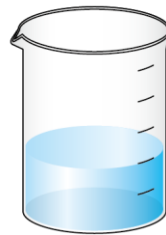
月 日

① どちらの みずが おおいでしょう。おおい ほう
に ^{まる}○を つけましょう。

①

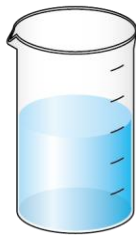


()




()

②



()





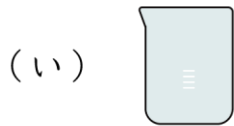
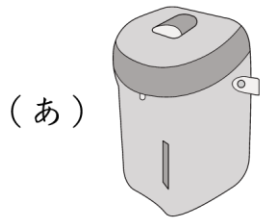
()

名前

月 日



2 いちばん おおく はいるのは どれですか。



()

名前


月 日



3

じゅんばんに ならべましょう。

(あ)     

(い)  

(う)      

(え)    

① おおく みずが はいっている じゅんに かきま
しょう。

(⇒ ⇒ ⇒)


名前

月 日




4 はいっている みずは どちらが おおいですか。
 おおい ほうに ^{まる}○を つけましょう。

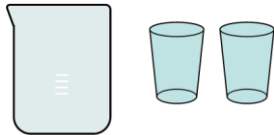
①



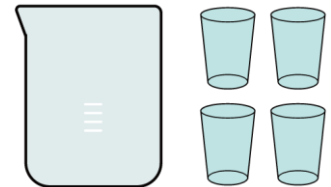
() ()



②



() ()



③



() ()

