



15

おおきな かず

100までの かず

(きほん)

名前

月 日

① おおきい じゅんに ならべましょう。

① 

90
----

56
----

78
----

100
-----

21
----

(        ⇒        ⇒        ⇒        ⇒        )

② 

15
----

86
----

99
----

45
----

64
----

(        ⇒        ⇒        ⇒        ⇒        )

③ 

36
----

76
----

88
----

53
----

85
----

(        ⇒        ⇒        ⇒        ⇒        )




名前

月 日

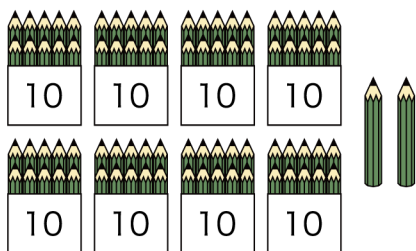
2 かずを かきましょう。

①



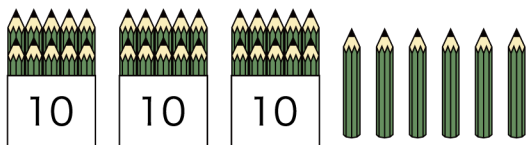
( )

②



( )

③



( )



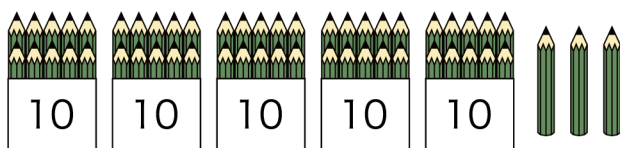
名前

月 日

3

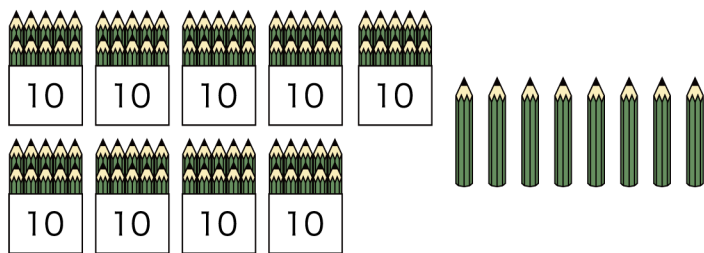
わけて かんがえましょう。

① 53



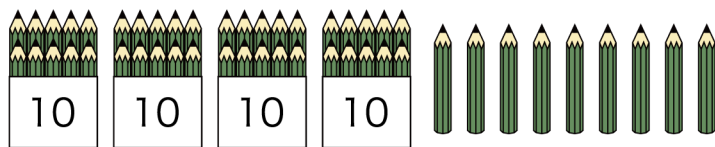
10 が ( ) こと 1 が ( ) こ

② 98



10 が ( ) こと 1 が ( ) こ

③ 49



10 が ( ) こと 1 が ( ) こ



名前

月 日

4 どちらが おおきいですか。○を <sup>まる</sup>つけましょう。

①  (     ) (     )

②  (     ) (     )

③  (     ) (     )

5 どちらが ちいさいですか。○を <sup>まる</sup>つけましょう。

①  (     ) (     )

②  (     ) (     )

③  (     ) (     )



名前

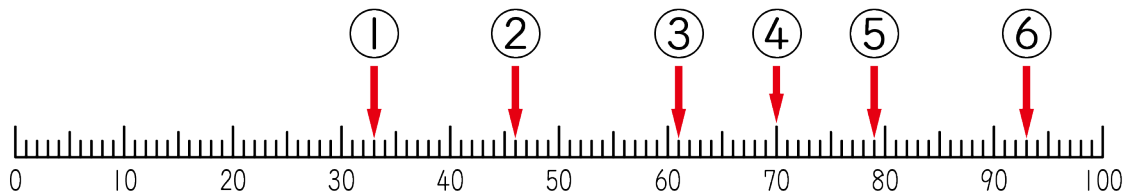
月 日

6 ( )に はいる すうじを かきましょう。

① 57 - 58 - ( ) - 60

② 32 - ( ) - ( ) - ( ) - 36

7 かずのせんをみて かずを こたえましょう。



① ( )

② ( )

③ ( )

④ ( )

⑤ ( )

⑥ ( )