



15

おおきな かず

まとめのもんだい

名前

月 日

1 けいさんを しましょう。

① $43 + 5 =$

② $50 + 40 =$

③ $30 + 24 =$

④ $65 + 2 =$

⑤ $70 + 19 =$

⑥ $94 + 3 =$

⑦ $51 + 20 =$

⑧ $60 + 20 =$

⑨ $50 + 50 =$

⑩ $87 + 2 =$

まとめのもんだい

名前

月 日



$⑪ 40 - 10 = \square$

$⑫ 77 - 2 = \square$

$⑬ 50 - 40 = \square$

$⑭ 66 - 3 = \square$

$⑮ 87 - 5 = \square$

$⑯ 90 - 20 = \square$

$⑰ 30 - 30 = \square$

$⑱ 68 - 2 = \square$

$⑲ 30 - 10 = \square$

$⑳ 45 - 5 = \square$

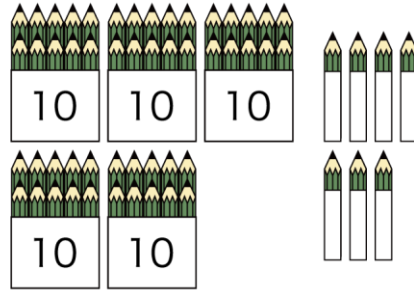
名前

月 日



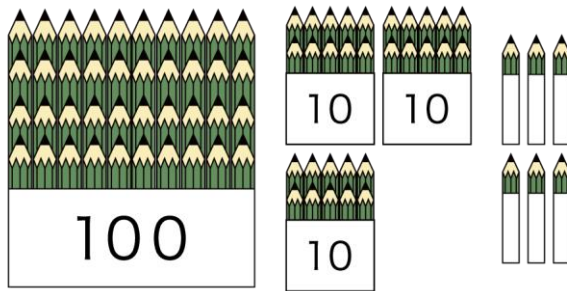
2 なんぼん あるか かずを かぞえましょう。

①



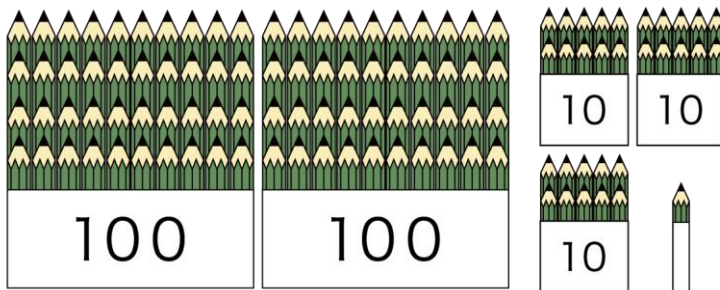
()ほん

②



()ほん

③



()ほん

まとめのもんだい

名前

月 日



3 どちらが おおきいですか。○を ^{まる}つけましょう。

① 90 () () 99

② 103 () () 100

③ 67 () () 76

4 ()に はいる すうじを かきましょう。

① 89 - () - () - 92 - ()

② 56 - () - () - () - 52

③ 90 - () - 110 - 120 - ()