

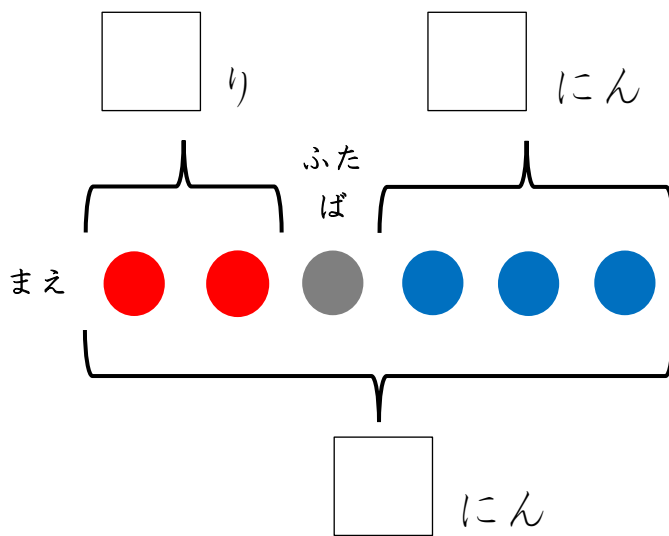
17 たしざん ひきざんを ずを  
つかって かんがえる

ずを つかった

たしざん ひきざん (きほん)

1 ふたばちゃんの まえに <sup>ふた</sup>2り、うしろに 3にん  
います。みんなで なんにん いますか。

ずを つかって しきを かんがえましょう。



しき( )

こたえ( )にん

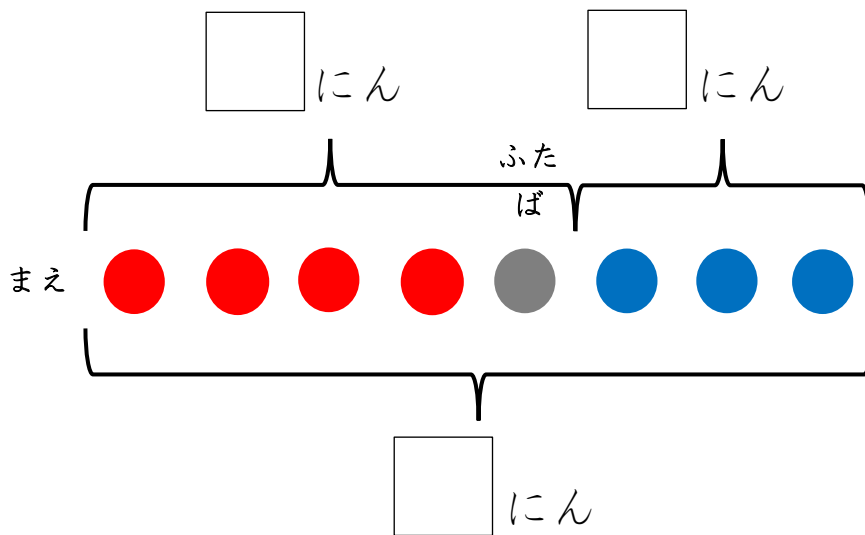


名前

月 日

2 ふたばちゃんは まえから 5ばんめに います。  
うしろに 3にん います。みんなで なんにん  
いますか。

ずを つかって しきを かんがえましょう。



しき( )

こたえ( )にん



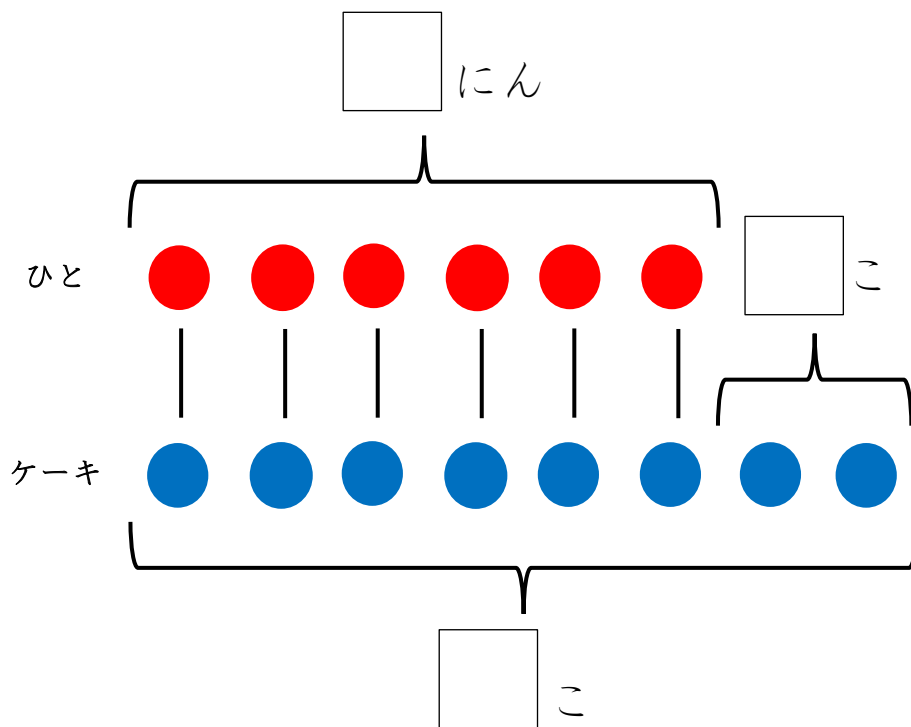
名前

月 日

3

6にんに ケーキを 1つずつ わけました。ケーキは まだ 2つ あります。ケーキは ぜんぶで いくつ ありましたか。

ずを つかって しきを かんがえましょう。



しき( )

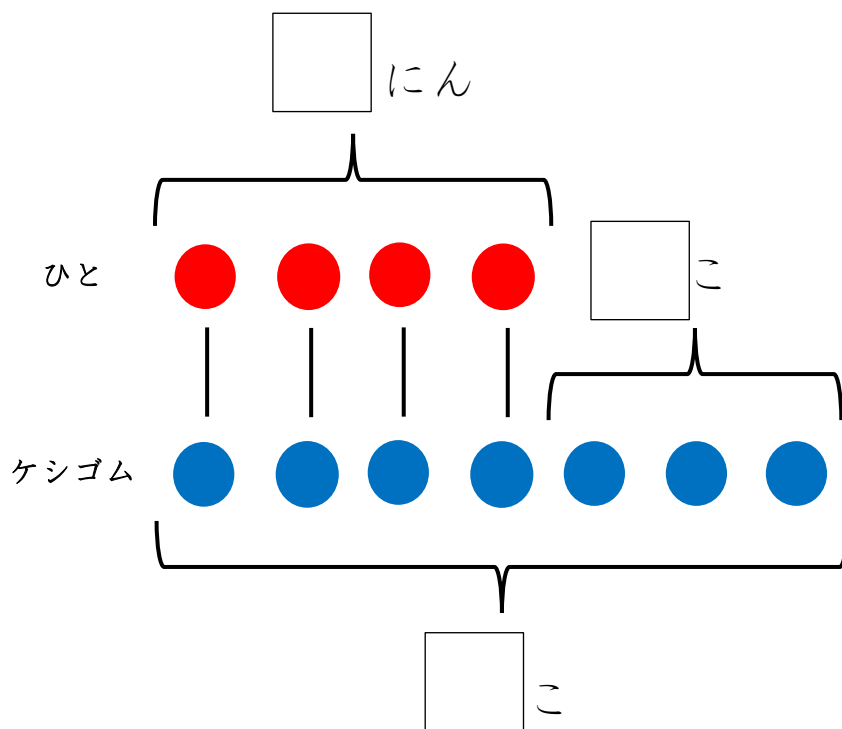
こたえ( )こ



名前

月 日

- 4 ケシゴムが 7こ あります。4にんに 1つずつ  
あげると いくつ のこりますか。  
ずを つかって しきを かんがえましょう。



しき( )

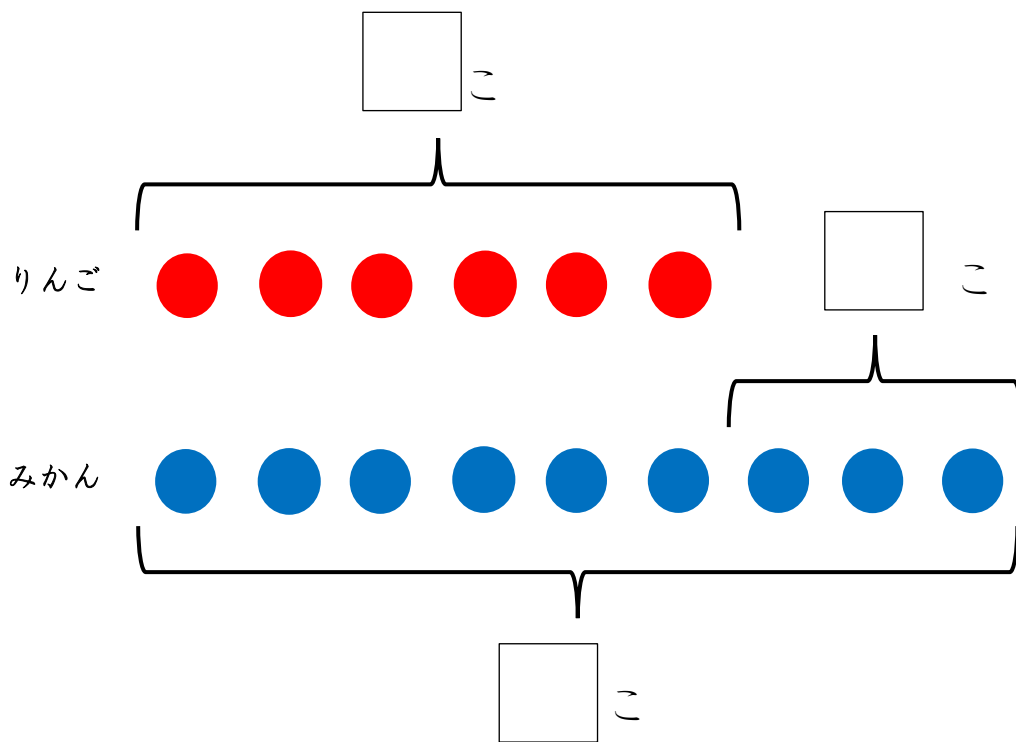
こたえ( )こ



名前

月 日

- 5 みかんが 9こ あります。りんごは みかんより  
3こ すくなく かおうと おもいます。りんごは  
なんこ かえば よいでしょう。  
ずを つかって しきを かんがえましょう。



しき( )

こたえ ( )こ