

2

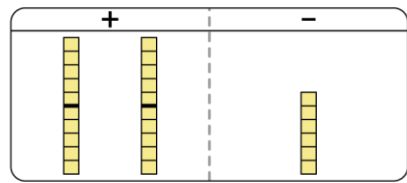
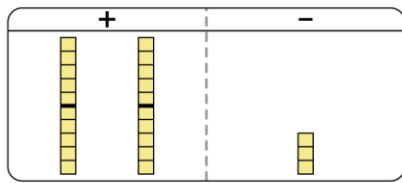
たし算のひっ算 (2けた)

ひっ算のじゅんび (たし算)

(基本)

1 あわせた 数を もとめましょう。

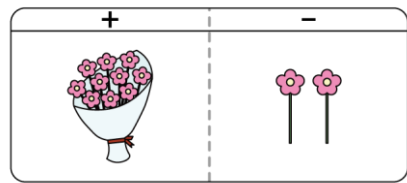

ひろくんは シールを23まい えまちゃんは シールを6まい
もっていました。 あわせて いくつに なるでしょう。



10の まとまりが () こと ばらが () まいで
() まい
しき () 答え () まい

2 あわせた 数を もとめましょう。

えまちゃんは お花を25本 さらちゃんは お花を12本 も
っていました。 あわせて いくつに なるでしょう。



10の まとまりが () こと ばらが () 本 で
() 本
しき () 答え () 本

ひっ算のじゅんぴ（たし算）

名前

月 日



3 あわせた 数を もとめましょう。

クッキーが 31こ ケーキが 13こ あります。

あわせて いくつに なるでしょう。

しき

答え（ ）こ

4 あわせた 数を もとめましょう。

えんぴつが 35本 ケシゴムが 21こ あります。

あわせて いくつに なるでしょう。

しき

答え（ ）こ