

7 時こくと時間



とけい (午前と午後)

(基本)


1 時こくを 午前、午後を つかって 時こくを 書きましょう。

①



()

②




()

③



()

④



()

⑤



()

⑥



()

とけい (午前と午後)



名前


月 日

2 () に あてはまる 数字や 言葉を 書きましょう。


- ① 午前は何時間ですか。 () 時間
- ② 午後は何時間ですか。 () 時間
- ③ 1日は何時間ですか。 () 時間
- ④ 時計の みじかいはりは 1日に 何回 まわりますか。
() 回
- ⑤ 正午は () 0時の ことです。
- ⑥ 昼の12時のことを () と いいます。

3 時計の 長いはりを 書きましょう。

① 午前7時40分



② 午前11時55分



③ 午後4時30分



④ 午後9時

