



# まとめの問題

1 つぎの 時こくを 答えましょう。

① 20分後の時こく

( )



② 10分前の時こく

( )

③ 8時までは あと ( ) 分間 あります。

④ 25分後の 時こく ( )

2 ( ) に あてはまる 数を 書きましょう。

① 長いはりが 1まわりする 時間は ( ) 分

② 1時間 = ( ) 分

③ 1時間10分 = ( ) 分

④ 90分 = ( ) 時間 ( ) 分

⑤ 1日は何時間ですか。 ( ) 時間

⑥ 昼の12時のことを ( ) と いいます。

まとめの問題




名前


月 日

3 時こくを 午前、午後を つかって 時こくを 書きましょう。

①



②




( )

( )


4 次の時間は 何時間でしょう。

① 午後1時から 午後3時まで



( )

② 午前9時から 午後4時まで



( )