

9

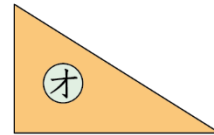
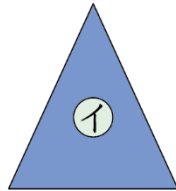

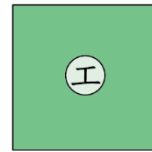
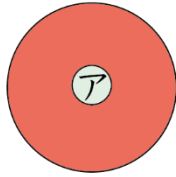
三角形と 四角形
(長方形と正方形 直角三角形)

三角形と 四角形

(基本)

1

三角形と 四角形は それぞれ どれでしょう。



三角形… ()

四角形… ()

2

() に あてはまる ことばや 数字を いれましょう。

三角形や 四角形の まわりの 直線を () と

いい、かどの 点を () といいます。

・三角形には へんが () つ、ちょう点が () つ

あります。

・四角形には へんが () つ、ちょう点が () つ

あります。

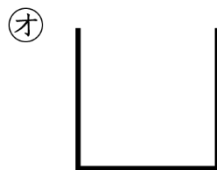
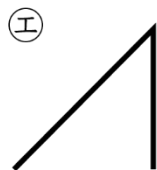
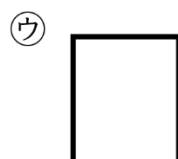
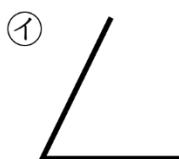
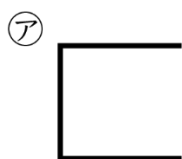
三角形と 四角形

名前

月 日



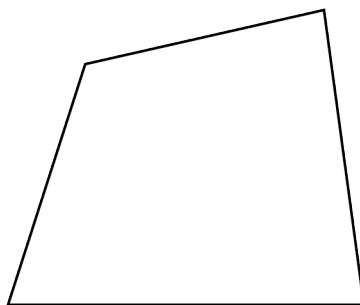
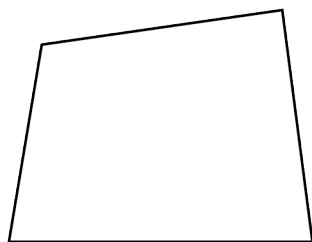
3 直線の へんを 1本かきたして、 形を かんせい させましよう。



4 四角形に 線を 引いて 下の形を 作りましよう。

① 2つの 四角形

② 三角形と四角形



三角形と 四角形



名前

月 日