



10

かけ算 その1

名前

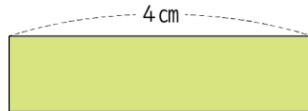
月 日

かけ算の ばい

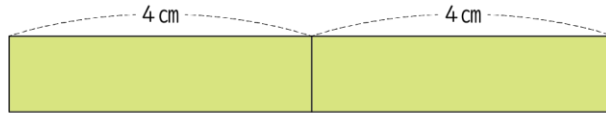
(基本)

1 それぞれの () に 数字や ことばを 書きましょう。

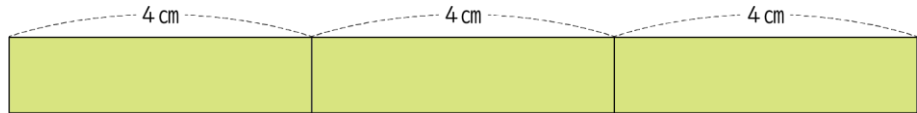
㊦ 4 cmのテープ
1つ



㊩ 4 cmのテープ
2つつなげる



㊫ 4 cmのテープ
3つつなげる



① 4 cm の 1 つ分のことを、4 cm の () ばい と いいます。

㊦の長さ () × () = () cm

② 4 cm の 2 つ分のことを、4 cm の () ばい と いいます。

㊩の長さ () × () = () cm

③ 4 cm の 3 つ分のことを、4 cm の () ばい と いいます。

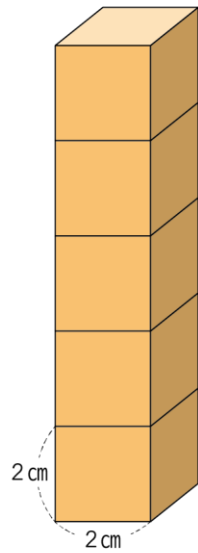
㊫の長さ () × () = () cm

名前

月 日



2 2 cmの はこを 5こ分 つみました。



① ぜんぶの 高さは 1こ分の 高さの 何ばい ですか。

() ばい

② ぜんぶの 高さは 何 cm ですか

しき

() cm