



10

かけ算 その1

まとめの問題

名前

月 日

1 計算をしましょう。(0から3の段)

① 2×5

② 1×4

③ 3×3

④ 1×6

⑤ 2×8

⑥ 0×9

⑦ 3×5

⑧ 2×9

⑨ 1×1

⑩ 0×6

⑪ 2×7

⑫ 3×2

⑬ 3×4

⑭ 0×3

⑮ 1×7

⑯ 1×5

⑰ 0×8

⑱ 3×1

⑲ 2×4

⑳ 0×2

㉑ 1×8

名前

月 日



2 計算をしましょう。(4から6の段)

① 4×3

② 6×2

③ 5×3

④ 5×9

⑤ 4×4

⑥ 6×5

⑦ 4×1

⑧ 6×9

⑨ 5×1

⑩ 6×7

⑪ 4×9

⑫ 5×7

⑬ 4×2

⑭ 6×6

⑮ 5×5

⑯ 6×8

⑰ 4×7

⑱ 5×2

⑲ 5×6


⑳ 6×1

㉑ 4×8

名前

月 日



 3 計算をしましょう。(7から9の段)

① 8×2

② 7×9

③ 9×9

④ 7×1

⑤ 9×2

⑥ 8×7

⑦ 8×9

⑧ 7×7

⑨ 9×4

⑩ 9×5

⑪ 8×5

⑫ 7×2

⑬ 8×1

⑭ 7×8

⑮ 9×6

⑯ 7×4

⑰ 9×3

⑱ 8×3

⑲ 9×7

⑳ 8×8

㉑ 7×3

名前

月 日



4 計算をしましょう。(すべての段)

① 3×5

② 2×3

③ 5×1

④ 7×5

⑤ 6×8

⑥ 0×7

⑦ 1×6

⑧ 2×5

⑨ 9×4

⑩ 3×6

⑪ 8×8

⑫ 7×9

⑬ 4×5

⑭ 0×3

⑮ 6×6

⑯ 1×5

⑰ 5×8

⑱ 3×7

⑲ 9×5

⑳ 4×9

㉑ 8×4

名前

月 日



5 () に あてはまる 数を 書きましょう。



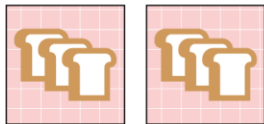
- ① 3×4 は、 () + () + () + () の計算で もとめる ことができます。
- ② 5×8 の 答えは、 5×7 の 答えより () 大きい。
- ③ $8 \times ()$ の 答えは、 8×6 の答えより 8 ふえる。

6 かけ算の しきに 合う、 絵を それぞれ えらんで 線で おすびましょう。

4×3

3×2

5×3



名前

月 日



7 1まい 6円の がようし画用紙を 7まい 買いました。ぜんぶで 何円
ですか。

しき

答え ()

8 クッキーを 1人に 8こずつ 7人に くばります。

① クッキーは 何こ いらいますか。

しき

答え ()

② 1人 ふえて 8人に くばる ことになりました。クッ
キーは、あと 何こ いらいますか。

答え ()

9 1人に おかしを4こ、ジュースを1本 くばります。 7人分
では、 おかしと ジュースは、それぞれ いくつ いらいますか。

しき おかし ()

ジュース ()

答え (おかし ()こ) (ジュース ()本)