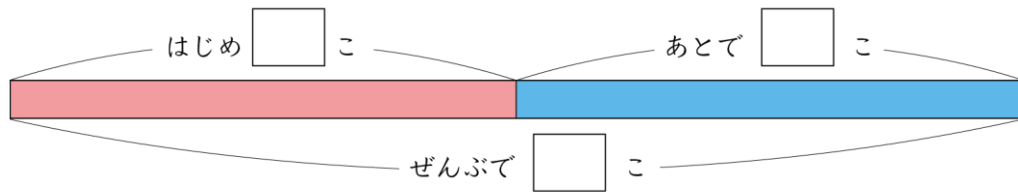


図をつかった ひき算

(基本)

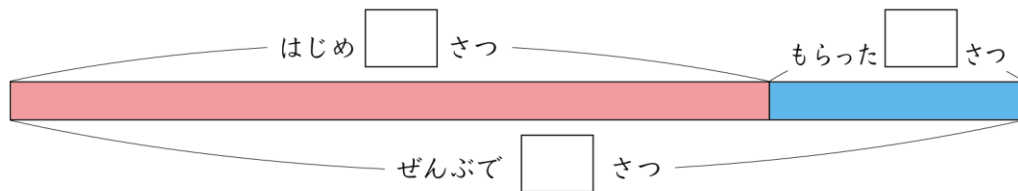
- 1 何こか たまごを もって いました。あとで、 9こ もらいました。ぜんぶで 18こ になりました。はじめに もって いた たまごは 何こですか。



しき

答え () こ

- 2 何さつか 本を もって いました。あとで、 7さつ もらいました。ぜんぶで 28さつ になりました。はじめに もって いた 本は 何さつですか。



しき

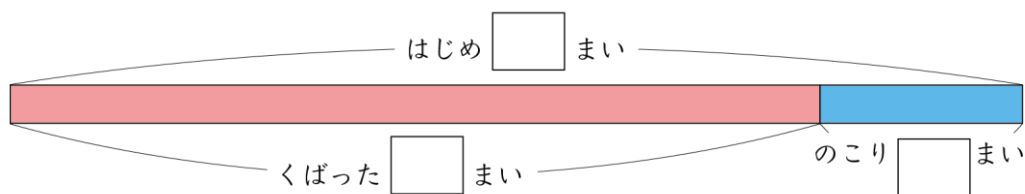
答え () さつ



名前

月 日

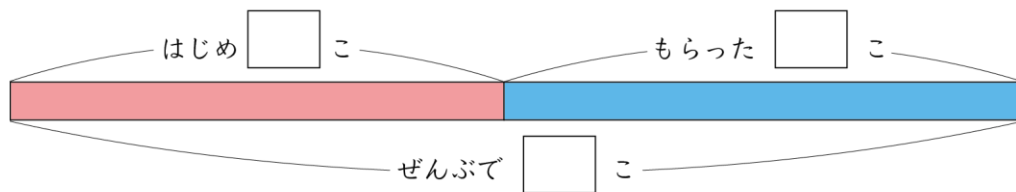
3 カードを 30まい もって いました。あとで、何まいか くばったので のこりが 6まい になりました。くばった カードは 何まいですか。□に あてはまる 数を 書きましょう。



しき

答え () まい

4 りんごが 何こか ありました。23こ もらったので、ぜんぶで 45こ になりました。りんごは はじめ 何こ ありましたか。□に あてはまる 数を 書きましょう。



しき

答え () こ