



15

たし算とひき算

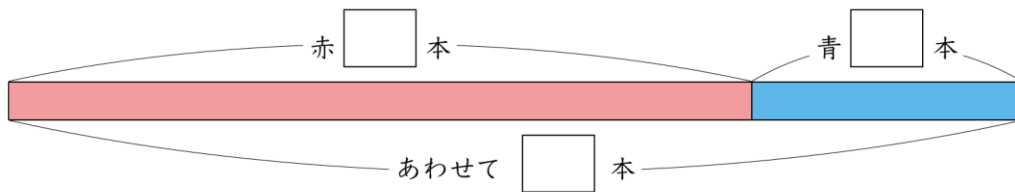
まとめのもんだい

名前

月 日

1 赤い えんぴつが 22本、青い えんぴつが 8本 あります。

あわせて何本ですか。

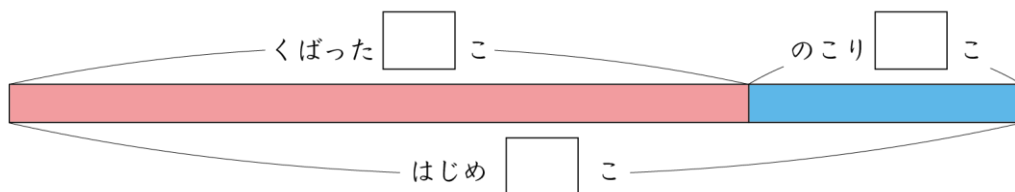


しき

答え () 本

2 おかしが いくつか ありました。19こ くばりました。のこり

が 7こ あります。おかしは はじめ いくつ ありましたか。



しき

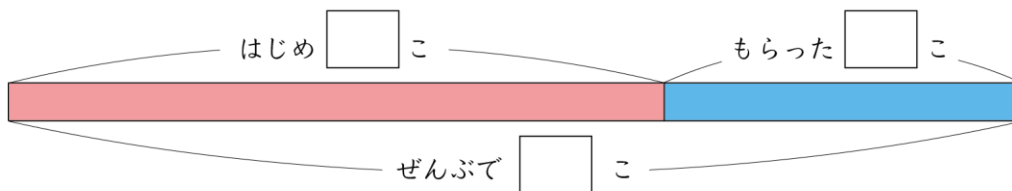
答え () こ



名前

月 日

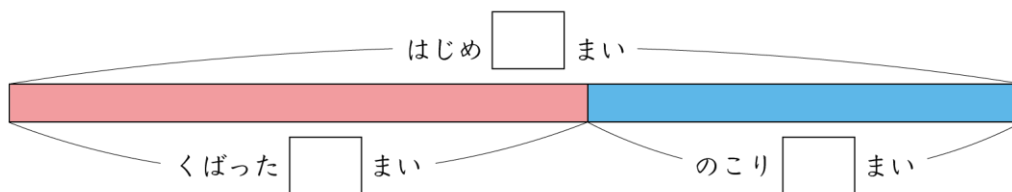
3 何こか あめを もって いました。あとで、 12こ もらいま
 した。ぜんぶで 34こ になりました。はじめに もって いた
 あめは 何こですか。□に あてはまる 数を 書きましょう。



しき

答え () こ

4 おりがみを 28まい もって いました。あとで、 何まいか
 くばったので のこりが 12まい になりました。くばった おり
 がみは 何まいですか。□に あてはまる 数を 書きましょう。



しき

答え () まい