

16

はこの形
(面、へん、ちょう点)

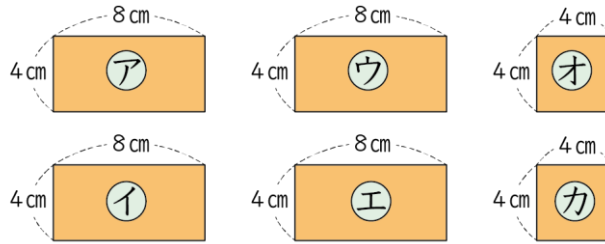
面はいくつ

(基本)

1

はこのぜんぶの^{めん}面を^{かみ}紙にうつしとりました。

①



面はいくつありますか。()つ

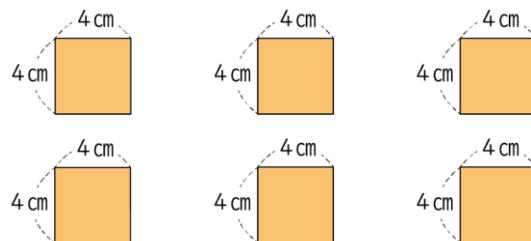
ア、イ、ウ、エの4つの面の形は何という四角形ですか。

()

オ、カの2つの面の形は何という四角形ですか。

()

②



面はいくつありますか。()つ

正方形の面はいくつありますか。()つ

長方形の面はいくつありますか。()つ

面はいくつ

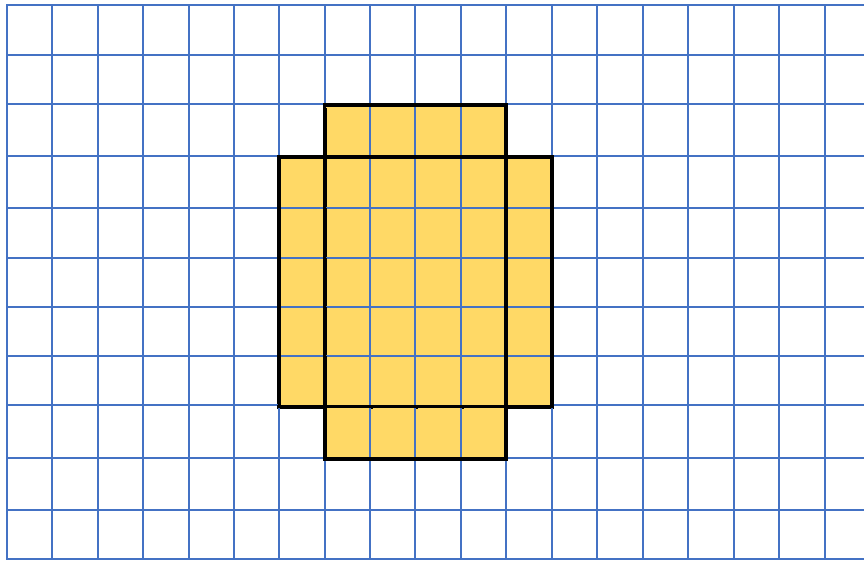


名前

月 日

2 たりない面をかきたしてはこをつくりましょう。

①



②

