



16

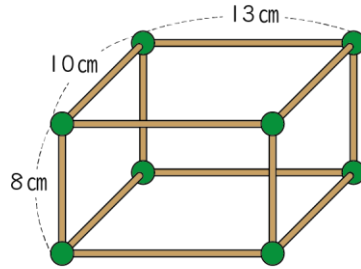
はこの形
(面、へん、ちょう点)

へんと ちょう点
(基本)

名前

月 日

1 ひごと ねんど玉を つかって はこを つくりました。



① 何 cm の ひごが 何本 ありますか。

8 cm ()本

13 cm ()本

10 cm ()本

② ねんど玉は 何こ ありますか。

()こ

③ へんは 何本 ありますか。

()本

④ 面は いくつ ありますか。

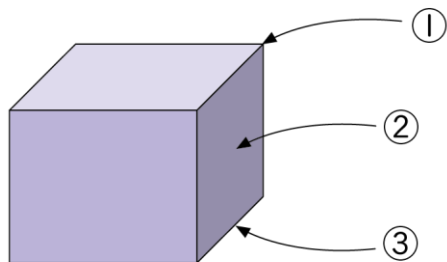
()つ



名前

月 日

2 はこの形について それぞれの なまえを 書きましょう。



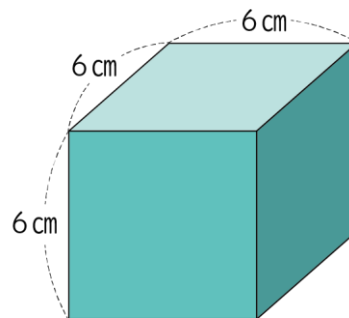
① ()

② ()

③ ()

3 下のような はこを つくりました。ちょう点の数は何こですか。

また、どんな長さの へんが 何本ありますか。



ちょう点 () こ

長さ () cm の へんが () 本