

17

はこの形



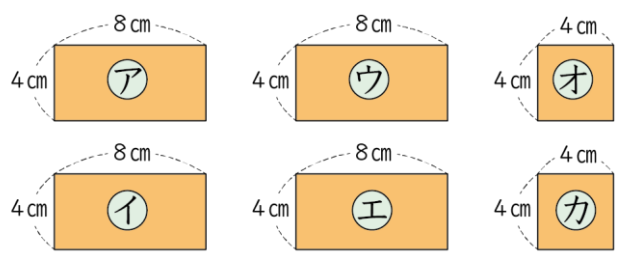
面はいくつ

(基本)

1

はこの ぜんぶの ^{めん}面を ^{かみ}紙に うつしとりました。

①



面はいくつありますか。 () っ

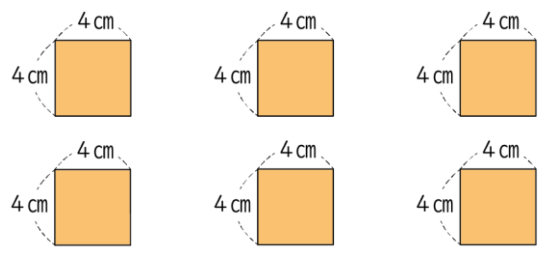
①、②、③、④の 4つの 面の 形は何と いう 四角形ですか。

()

⑤、⑥の 2つの 面の 形は何と いう 四角形ですか。

()

②



面はいくつありますか。 () っ

正方形の面は いくつ ありますか。 () っ

長方形の面は いくつ ありますか。 () っ

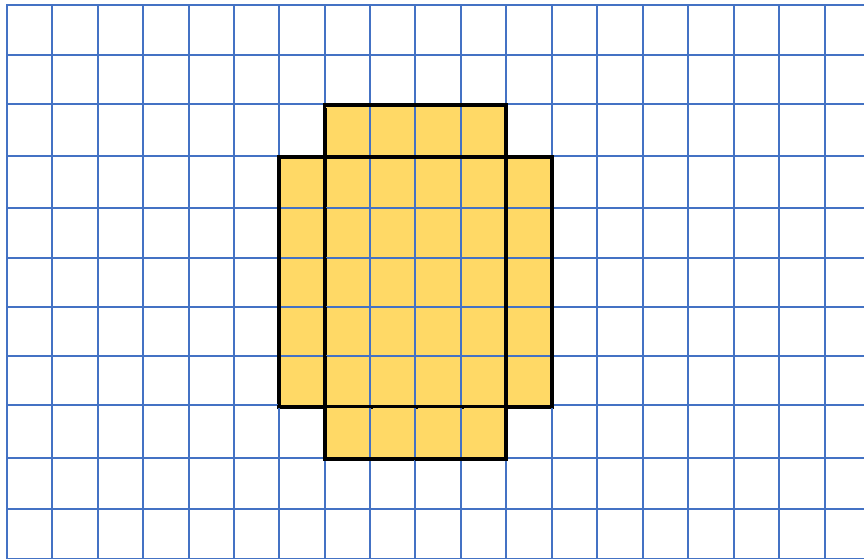
名前

月 日



2 足りない面をかきたしてはこをつくりましょう。

①



②

