



4

たし算とひき算の筆算

まとめの問題

名前

月 日

1 計算をしましょう。

① $436 + 143 =$

② $248 + 317 =$

③ $790 + 164 =$

④ $555 + 278 =$

⑤ $833 + 299 =$

⑥ $918 + 82 =$

⑦ $3582 + 1509 =$

⑧ $2685 + 3437 =$

⑨ $5166 + 2977 =$


⑩ $2096 + 904 =$

⑪ $4917 + 83 =$

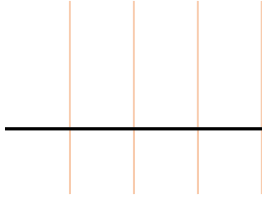
名前

月 日

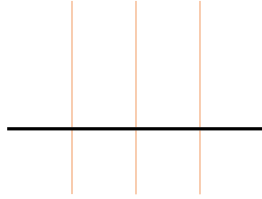


 次の計算をしましょう。

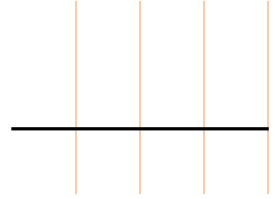
① $952 - 561 =$



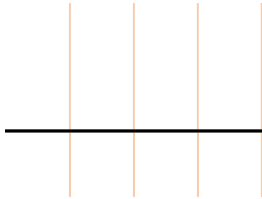
② $274 - 117 =$



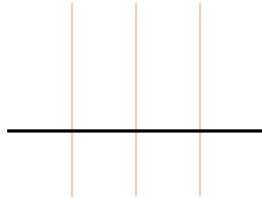
③ $710 - 264 =$



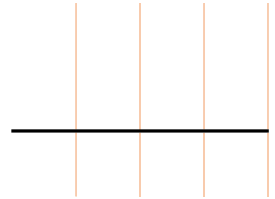
④ $355 - 278 =$



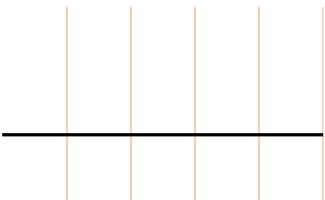
⑤ $900 - 477 =$



⑥ $918 - 89 =$



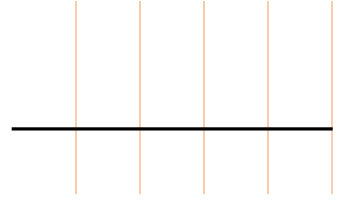
⑦ $3582 - 1509 =$



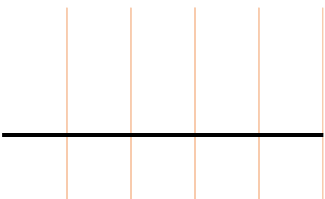
⑧ $8484 - 4195 =$



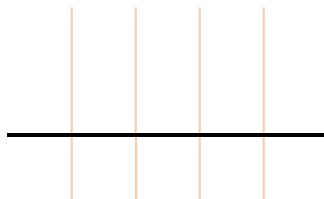
⑨ $5166 - 2977 =$



⑩ $2021 - 1964 =$



⑪ $7000 - 83 =$



名前

月 日



3 次の①～③の問題をときましょう。

- ① どんぐりが箱に 273 こ、かごに 149 こ入っています。あわせると、
何こになるでしょうか。

式：

答え：() こ

- ② シティマラソンがあります。大人の参加者が 766 人，子どもの参加者が 544 人のとき，参加者はあわせて何人になるでしょうか。

式：

答え：() 人

- ③ 1890 円のカレンダーと，660 円の本を買いました。代金はあわせて
いくらになるでしょうか。

式：

答え：() 円

名前

月 日



4 次の①～③の問題をときましょう。

- ① ふうちゃんは 245 ページある本を、今日までに 199 ページ読みました。^{のこ}残りは何ページでしょうか。

式：

答え：() ページ

- ② 工場のそう^こ庫に、品物^{しなもの}が 500 こありました。このうち、145 こをお店に^{はこ}運びました。そう庫に残っている品物は何こでしょうか。

式：

答え：() こ

- ③ ガクくんは 3550 円持^もっています。1878 円使うと、残りはいくらになるでしょうか。

式：

答え：() 円