



5

長さ km (キロメートル)

km (キロメートル)

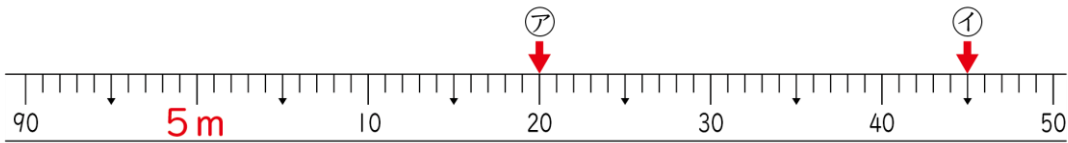
(基本)

名前

月 日

1 下のまきじゃくを見て答えましょう。

① ㊦、㊧のめもりが表している長さは何 m 何 cm ですか。



㊦ () ㊧ ()

② 上のまきじゃくで、㊨、㊩の長さが表すめもりに記号と↓をかきましよう。

㊨ 4 m 9 5 cm

㊩ 5 m 8 cm

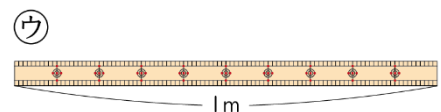
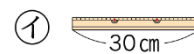
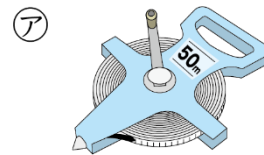
2 次の長さをはかります。㊦、㊧、㊨のどれを使いますか。記号でこたえましょう。

① ふでばこの長さ ()

② 頭のまわりの長さ ()

③ サッカーコート of 長さ ()

④ 学校のつくえのたての長さ ()

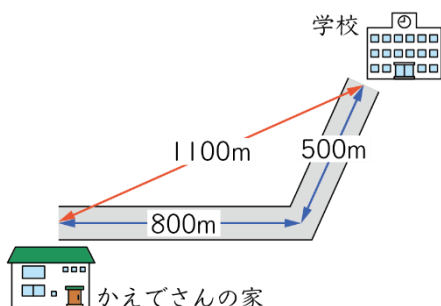




名前

月 日

3 かえでさんの家から学校までのきよりは、何mですか。また、家から学校までの道のりは、何mですか。



【とき方】まっすぐにはかった長さをきよりといいます。かえでさんの家から学校までのきよりは、 m になります。

また、道にそってはかった長さのことを道のりというので、

$$800 + \text{} = \text{} \text{より、}$$

道のりは m です。

答え (きより m、道のり m)

4 中央公園にはマラソンコースがあり、1しゅう1000mです。5しゅう走ると、何m走ることになりますか。また、それは何kmですか。

答え (m、 km)

5 □にあてはまる数を書きましょう。

① 7000 m = km

② 3 km 400 m = m