



5

長さ km(キロメートル)

## まとめの問題

1 ( ) にあてはまる、長さのたんいを書きましょう。

① 1時間に歩く道のり 3 ( )

② 国語の教科書のあつき 6 ( )

③ はがきの横<sup>よこ</sup>の長さ 100 ( )

④ サッカーゴールの高さ 2 ( )

⑤ えんぴつの長さ 17 ( )

2 □にあてはまる数を書きましょう。

① 8000m =  km

② 1500m =  km  m

③ 6520m =  km  m

④ 4580m =  km  m

⑤ 6007m =  km  m

⑥ 1km800m =  m

⑦ 1km380m =  m

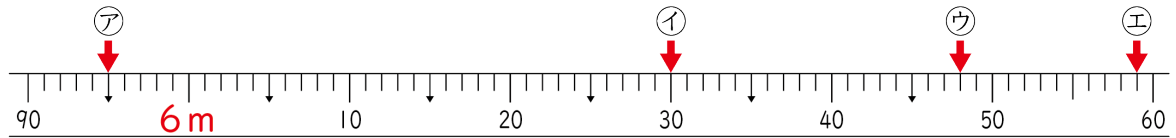
⑧ 2km40m =  m

名前

月 日



3 下のまきじゃくを見て、<sup>もんだい</sup>問題に答えましょう。



① 1めもりは何 cm ですか。 ( )

② ↓の目もりは、何 m 何 cm を表していますか。

ア ( )      イ ( )

ウ ( )      エ ( )

4 次の計算をして、[ ]の中のたんいで答えましょう。

①  $500\text{m} + 360\text{m}$  [ m ] ( )

②  $960\text{m} - 520\text{m}$  [ m ] ( )

③  $760\text{m} + 350\text{m}$  [ m ] ( )

④  $1\text{km}550\text{m} + 800\text{m}$  [ km と m ] ( )

⑤  $820\text{m} + 390\text{m}$  [ km と m ] ( )

⑥  $2\text{km}800\text{m} - 460\text{m}$  [ km と m ] ( )

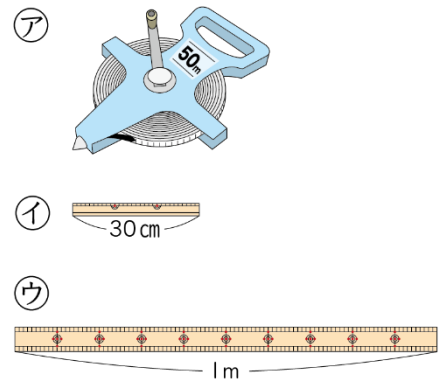
名前

月 日



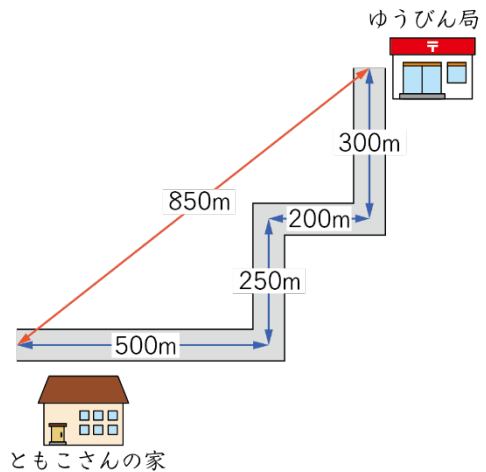
5 次の長さをはかります。㉗、㉘、㉙のどれを使いますか。記号でこたえましょう。

- ①校庭の横の長さ ( )
- ②えん筆のまわりの長さ ( )
- ③算数の教科書のあつさ ( )
- ④つくえの横の長さ ( )



6 地図を見て答えましょう。

- ①ともこさんの家からゆうびん局までのきよりは何mですか。  
( )



- ②ともこさんの家から、ゆうびん局までの道のりは何mですか。また、それは何km何mですか。  
( ) m ( ) km ( ) m)

名前

月 日



7 地図を見て答えましょう。

① ガクくんの家から学校までのきよりは何 m ですか。

( )

② 図書館の前を通って学校に行く道のりは、何 km 何 m ですか。

( )

③ 公園の前を通って学校に行く道のりは、何 km 何 m ですか。

( )

④ どちらの道の方がどれだけ近いですか。

( )

