

6 ぼうグラフと表

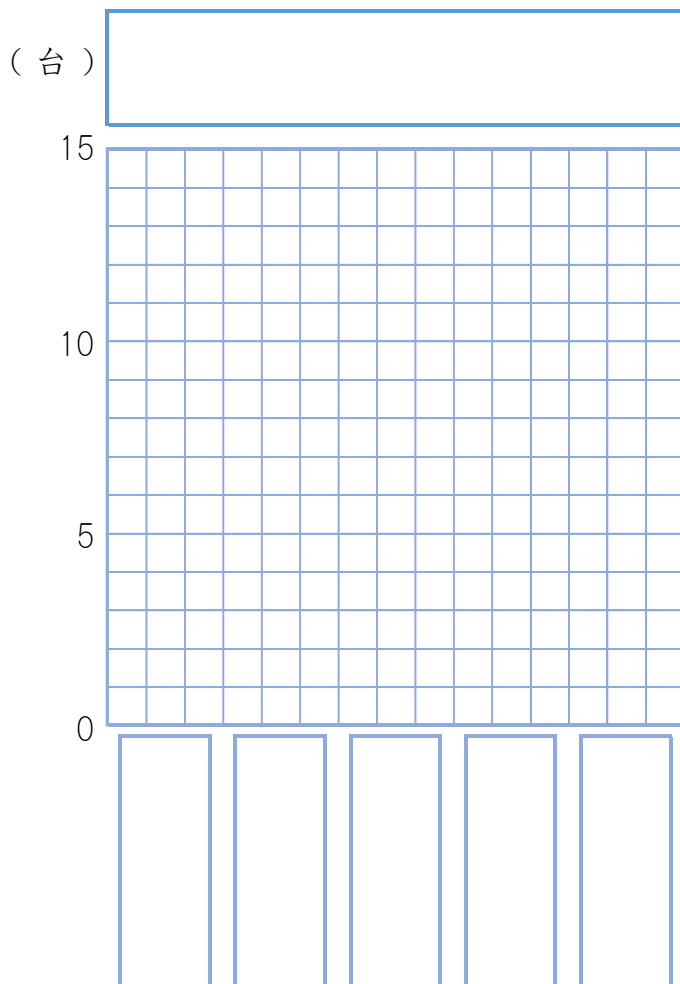
表からぼうグラフをつくる

(基本)

- 1 午前10時から10時15分の間に、学校の前を通った乗り物の数を調べました。そして、その結果を下の表にまとめました。

自動車調べ(学校の前, 午前10時から10時15分)

しゅるい	乗用車	トラック	バス	オートバイ	その他
台数(台)	13	7	2	8	3



- ① 上の表をぼうグラフに表しましょう。

(ポイント: このぼうグラフでは、数の大きさの順にならべかえましょう。)

- ② グラフの1めもりは何台を表しているでしょうか。

答え:()台

- ③ いちばん多く通った乗り物と、いちばん少なかった乗り物の台数のちがいは何台でしょうか。

答え:()台

- ④ オートバイの台数は、バスの台数の何倍でしょうか。

答え:()倍



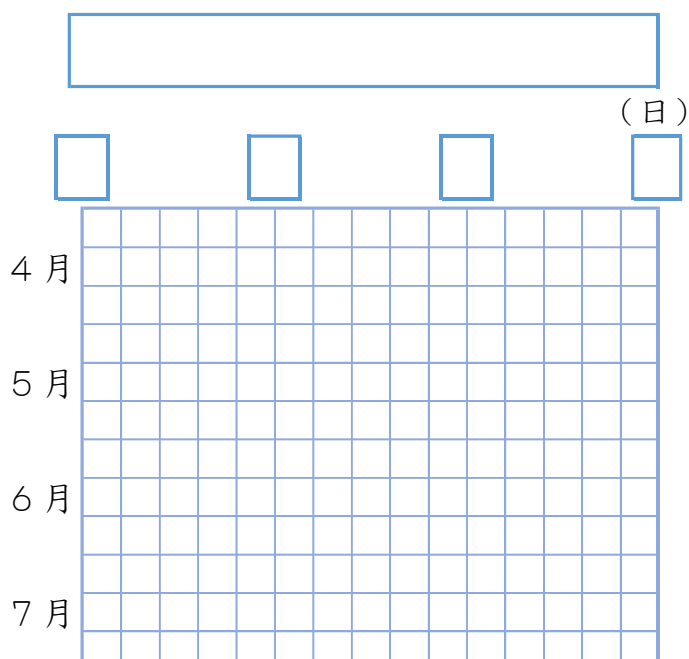
名前

月 日

- 2 ふうちゃんは、4月から7月までの間、1か月の間に雨がふった日数を調べて表にまとめました。これをぼうグラフに表しましょう。

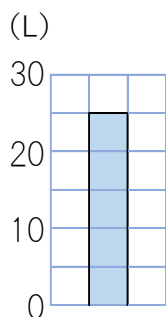
雨がふった日数調べ

月	4月	5月	6月	7月
日数(日)	7	9	12	14



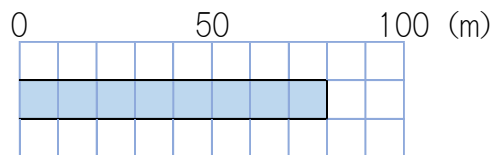
- 3 次のぼうグラフで、ぼうが表している大きさを答えましょう。

①



答え：() L

②



答え：() m