



14

かけ算 (2けたの数かける)

まとめの問題

名前

月 日

1 くふうして計算をしましょう。

① 6×50

② 5×35

③ 8×37

④ 60×90

⑤ 50×24

⑥ 30×16

2 計算をしましょう。

① 32×23


② 12×44

③ 14×26

名前

月 日



 3 計算をしましょう。

① 46×25

② 79×33

③ 26×46

④ 402×33

⑤ 632×45

⑥ 967×28

⑦ 224×70

⑧ 555×89

⑨ 772×48

名前

月 日



4 $4 \times 6 = 24$ です。このことをもとにして、計算しましょう。

① 4×60

② 4×600

③ 60×40

5 くふうして計算しましょう。

① $17 \times 4 \times 5$

② $33 \times 5 \times 6$

③ $25 \times 16 \times 4$

6 つぎの筆算はまちがっています。答えの見当をつけて、まちがいを見つけましょう。また、正しい答えを書きましょう。

$\begin{array}{r} 49 \\ \times 42 \\ \hline 98 \\ 196 \\ \hline 294 \end{array}$
--


【答えの見当】 $50 \times 40 =$

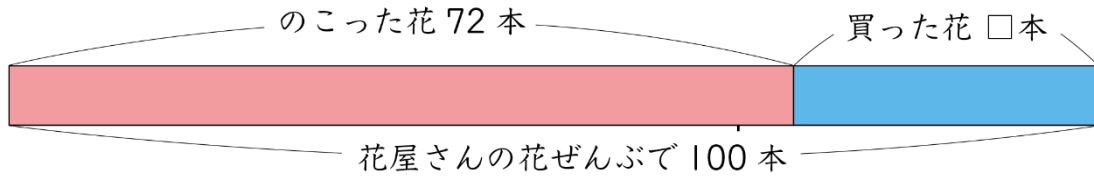
答え ()

名前

月 日



 はなや 花屋さんに、100本の花があります。ガクくんが何本か買っていききました。のこっている花は72本です。



①わからない数を□として、式に表しましょう。

式

②ガクくんが買っていった花の数は何本ですか。

式

答え ()

③花は1本35円です。ガクくんが買った花の代金はいくらですか。

式

答え ()