



3

### わり算の筆算 その1

名前

月 日

## いろいろなわり算

(基本)

1

計算をしましょう。

①  $2400 \div 3$

②  $3600 \div 4$

③  $5600 \div 8$

④  $7200 \div 9$

2

□にあてはまる数を書きましょう。

①  $\square \div 2 = 40$

答え (            )

②  $\square \div 4 = 80$

答え (            )

③  $\square \div 6 = 50$

答え (            )

④  $\square \div 7 = 70$

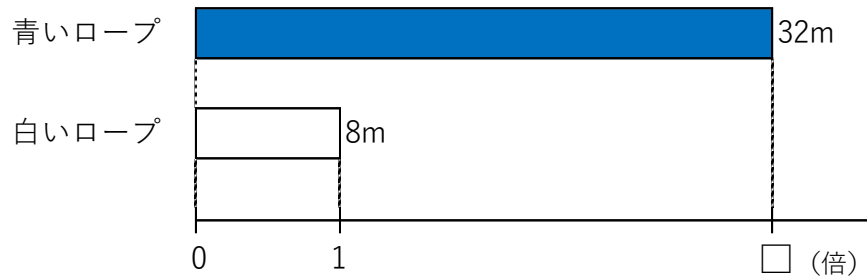
答え (            )



名前

月 日


- 3 長さが32mの青いロープと、長さが8mの白いロープがあります。青いロープの長さは、白いロープの長さの何倍でしょうか。



式

答え ( )

- 4 姉は56さつ、弟は7さつの本を持っています。姉のもっている本の数は、弟のもっている本の数の何倍でしょうか。



式

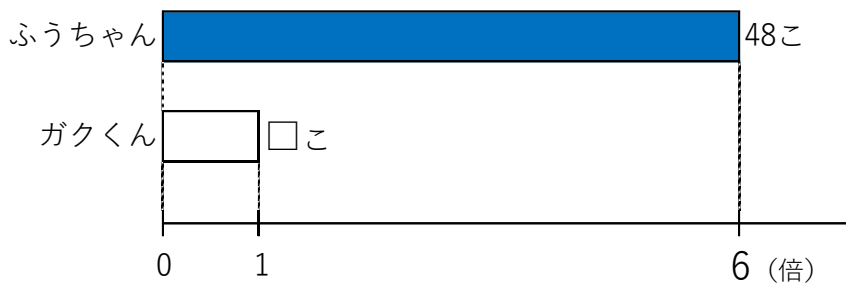
答え ( )

いろいろなわり算



名前 \_\_\_\_\_ 月 日 \_\_\_\_\_


5 ふうちゃんは48このビー玉をもっています。これは、ガクくんがもっているビー玉の数の6倍になります。ガクくんがもっているビー玉の数はいくつでしょうか。



式

答え (                    )

6 兄がなわとびで96回とびました。これは妹がとんだ数の8倍になります。妹は何回とびましたか。



式

答え (                    )



名前

月 日

7 暗算で求めましょう。

①  $28 \div 2$

②  $48 \div 4$

③  $66 \div 6$

④  $42 \div 3$

⑤  $84 \div 7$

⑥  $90 \div 5$

8 暗算で求めましょう。

①  $360 \div 3$

②  $860 \div 2$

③  $990 \div 9$

④  $640 \div 4$

⑤  $960 \div 8$

⑥  $700 \div 5$