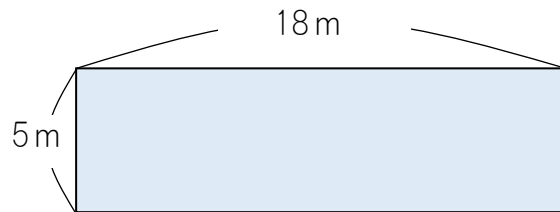
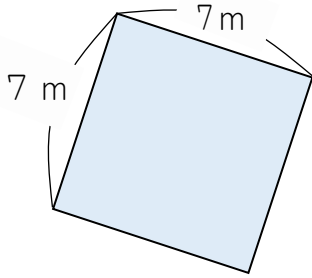


大きな面積, m^2

(基本)

1

次のような正方形や長方形の面積を求めなさい。



式: _____

式: _____

答え: ()

答え: ()

2

次の問題をときましょう。

① 1辺が10mの正方形の面積は何 m^2 でしょうか。

式: _____

答え: ()

② たてが6m, 横が16mの長方形の面積は何 m^2 でしょうか。

式: _____

答え: ()

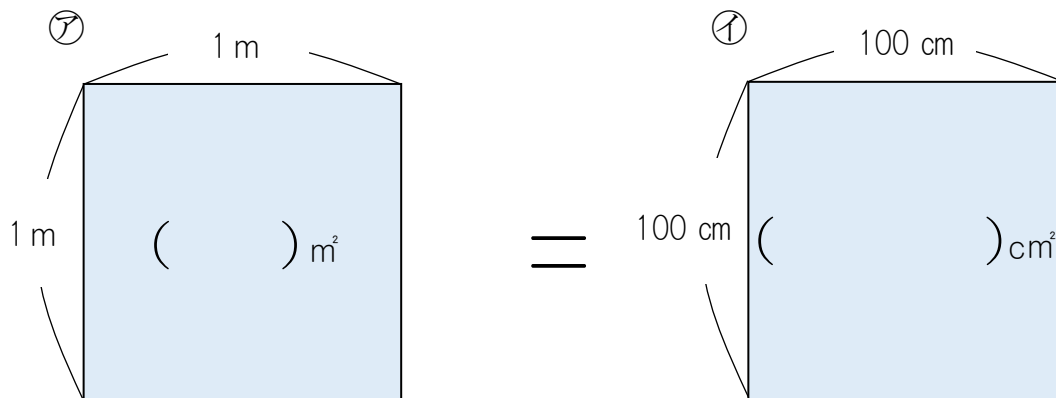
大きな面積, m^2



名前

月 日

3 次のような、面積の等しい正方形㊦, ㊧があります。



① 正方形の中の () にあてはまる数字を書き入れましょう。

② 次の () にあてはまる数字を書き入れましょう。

・上の二つの㊦と㊧の正方形の面積は同じである。つまり、
() m^2 = () cm^2 である。

4 次の () にあてはまる数字を書き入れましょう。

① $2 m^2 =$ () cm^2

② $50 m^2 =$ () cm^2

③ () $m^2 = 250000 cm^2$