

## 6

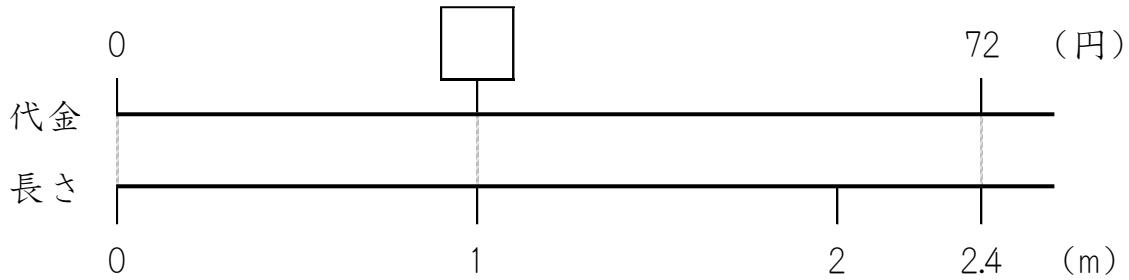
## 小数のわり算

## 小数のわり算 その1

(基本)

1 リボン 2.4m の代金は 72 円でした。

このリボン 1m のねだんはいくらでしょう。

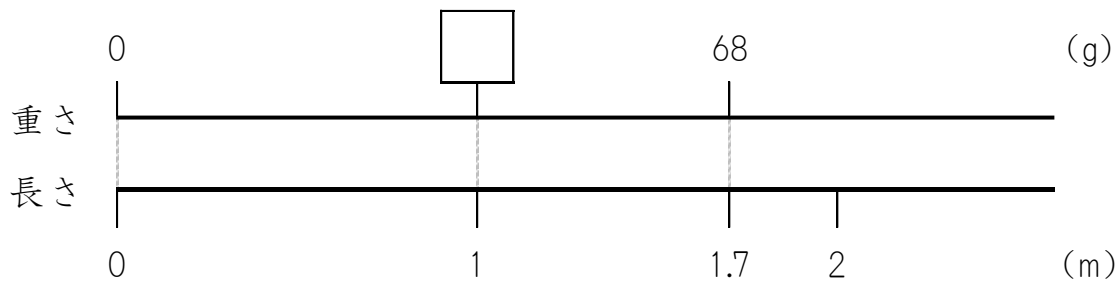


式 ( )

答え ( )

2 はり金 1.7m の重さは 68g でした。

このはり金 1m の重さは何g でしょう。



式 ( )

答え ( )

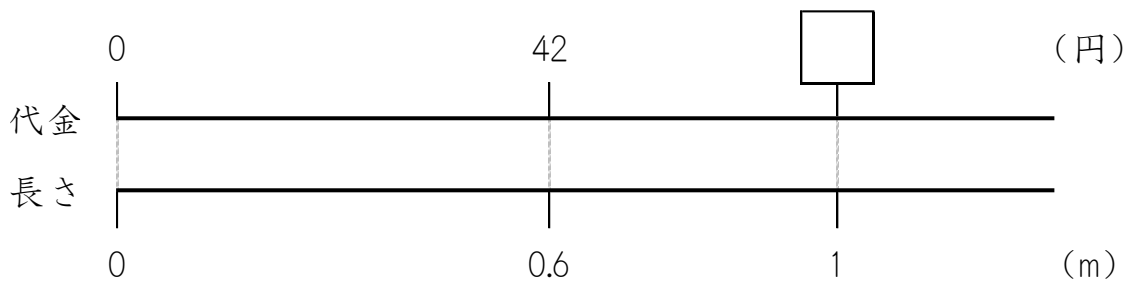


名前

月 日

3 リボン 0.6m の代金は 42 円でした。

このリボン 1m のねだんはいくらでしょう。

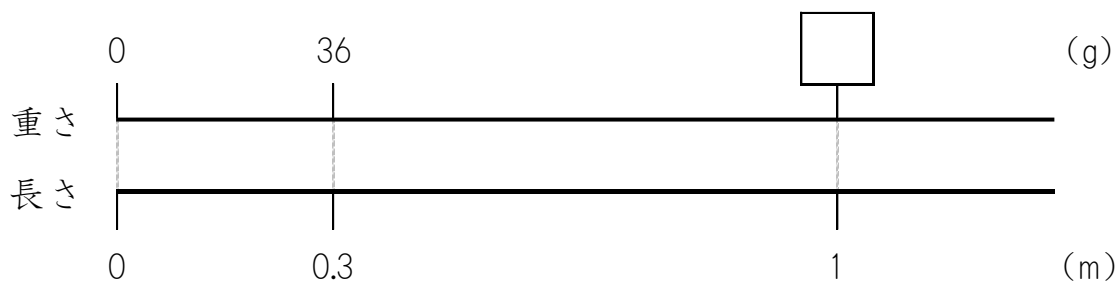


式 ( )

答え ( )

4 はり金 0.3m の重さは 36g でした。

このはり金 1m の重さは何g でしょう。



式 ( )

答え ( )



名前

月 日

5 計算しましょう。

①  $46 \div 2.3$

②  $57 \div 1.9$

③  $182 \div 3.5$

④  $55 \div 2.2$

⑤  $114 \div 7.6$

⑥  $354 \div 5.9$



名前

月 日

6 計算しましょう。

①  $60 \div 0.8$

②  $3 \div 0.2$

③  $18 \div 0.6$

④  $79 \div 0.1$

⑤  $24 \div 0.4$

⑥  $51 \div 0.3$