



7

合同な図形

名前

月 日

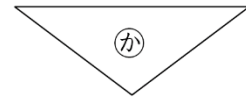
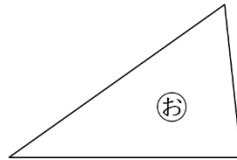
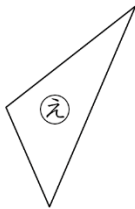
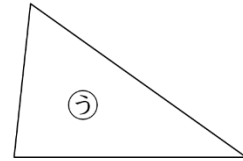
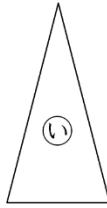
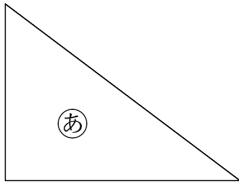
# 合同な図形 その1

(基本)

1

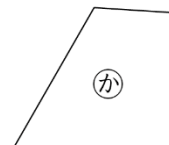
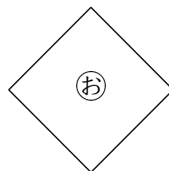
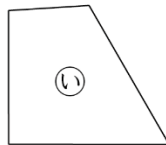
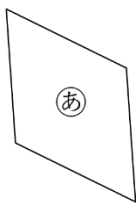
それぞれ下の図形の中から、合同な図形を見つけましょう。

①



(      と      )

②



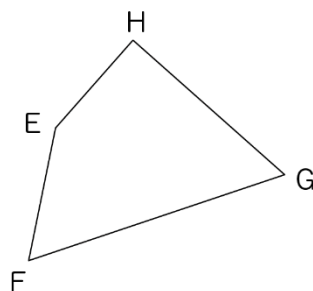
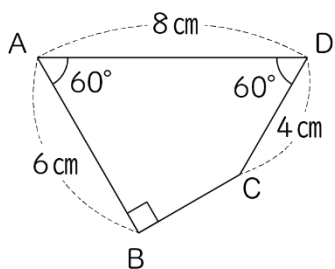
(      と      )



名前

月 日

2 次の2つの四角形は合同です。



- ① 辺FGの長さは何cmでしょうか。 (                    )
- ② 角Eの大きさは何度でしょうか。 (                    )

3 次の図形と合同な図形を、方眼に書きましょう。

