



16

四角形と三角形の面積

四角形と三角形の面積 その3

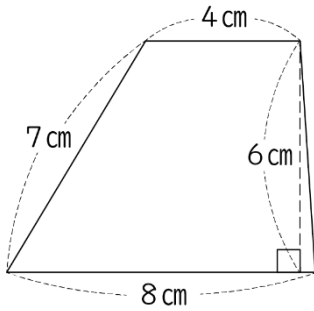
(基本)

名前

月 日

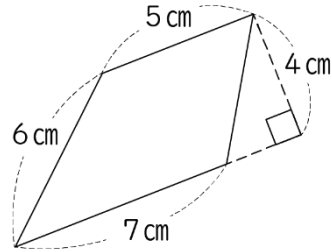
1 下の台形やひし形の面積を求めましょう。

① 台形



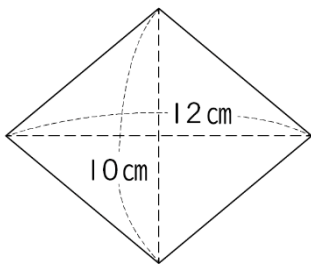
( )

③ 台形



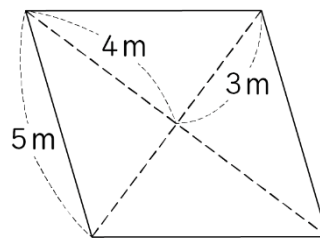
( )

② ひし形



( )

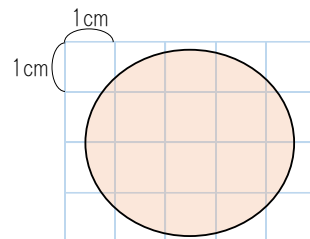
④ ひし形



( )

2 右の図形のおよその面積は

何  $\text{cm}^2$  でしょうか。



( )

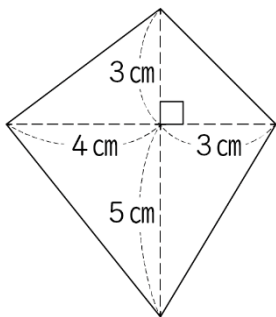


名前

月 日

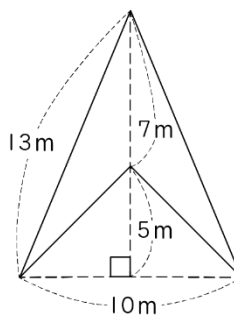
3 下の図形の面積を求めましょう。

①



( )

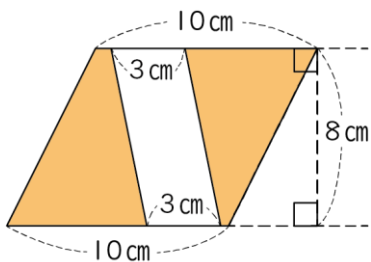
②



( )

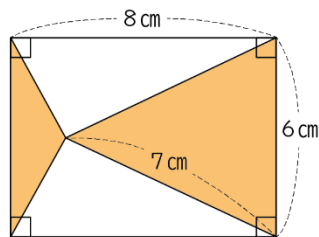
4 下の図で、色がついた部分の面積を求めましょう。

①



( )

③



( )