

13

およその面積や体積

およその面積と体積

(基本)

1 それぞれの国について、およその面積を求めましょう。

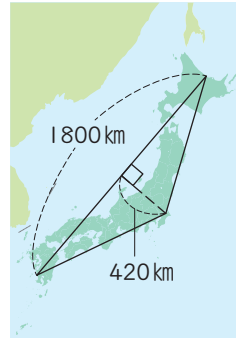
① シンガポール

② 日本



シンガポール

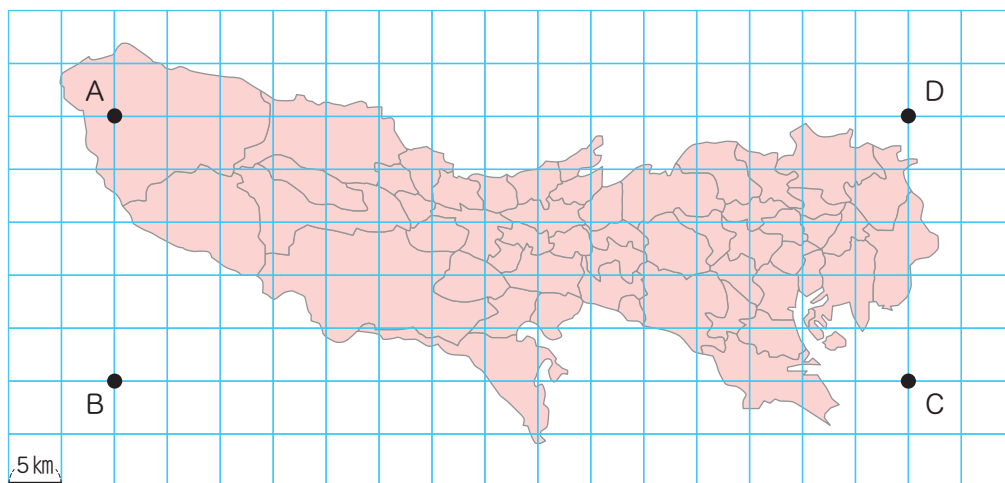
()



()

2 東京都の島しょ部を除いた部分のおよその面積を、

4点A, B, C, Dを頂点とする長方形とみなして求めましょう。



()

およその面積と体積



名前

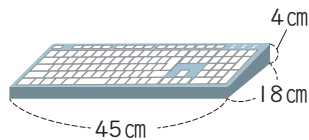
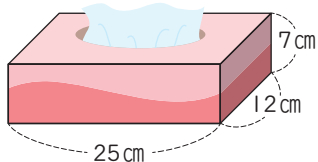
月 日

3 それぞれの立体のおよその体積や容積を求めましょう。

答えは四捨五入して、上から2けたのがい数で求めましょう。

① ティッシュペーパーの箱

② キーボード

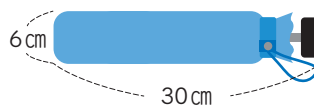
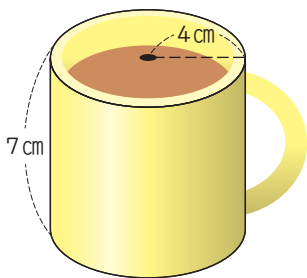


()

()

③ コップ

④ 折りたたみがさ



()

()